

**Апробация контрольных измерительных материалов
для проведения в 2015 году единого государственного экзамена
по МАТЕМАТИКЕ**

Базовый уровень

Вариант №120911

Инструкция по выполнению работы

Работа включает в себя 20 заданий.

На выполнение работы отводится 3 часа (180 минут).

Ответы к заданиям записываются в виде числа или последовательности цифр. Запишите ответы к заданиям в поле ответа в тексте работы, а затем перенесите в бланк ответов № 1 справа от номера соответствующего задания. Если ответом является последовательность цифр, то запишите эту последовательность в бланк ответов № 1 без пробелов, запятых и других дополнительных символов.

Пример записи ответов.

В работе	На бланке																				
Ответ: <u>-0,6</u> .	<table border="1" style="border-collapse: collapse; width: 100%;"><tr><td style="width: 20px; text-align: center;">5</td><td style="width: 20px; text-align: center;">-</td><td style="width: 20px; text-align: center;">0</td><td style="width: 20px; text-align: center;">,</td><td style="width: 20px; text-align: center;">6</td><td style="width: 20px;"></td><td style="width: 20px;"></td><td style="width: 20px;"></td><td style="width: 20px;"></td><td style="width: 20px;"></td><td style="width: 20px;"></td><td style="width: 20px;"></td><td style="width: 20px;"></td><td style="width: 20px;"></td><td style="width: 20px;"></td><td style="width: 20px;"></td><td style="width: 20px;"></td><td style="width: 20px;"></td><td style="width: 20px;"></td><td style="width: 20px;"></td></tr></table>	5	-	0	,	6															
5	-	0	,	6																	
Ответ:	<table border="1" style="border-collapse: collapse; width: 100%;"><tr><td style="width: 20px; text-align: center;">А</td><td style="width: 20px; text-align: center;">Б</td><td style="width: 20px; text-align: center;">В</td><td style="width: 20px; text-align: center;">Г</td></tr><tr><td style="width: 20px; text-align: center;">4</td><td style="width: 20px; text-align: center;">3</td><td style="width: 20px; text-align: center;">1</td><td style="width: 20px; text-align: center;">2</td></tr></table>	А	Б	В	Г	4	3	1	2												
А	Б	В	Г																		
4	3	1	2																		
	<table border="1" style="border-collapse: collapse; width: 100%;"><tr><td style="width: 20px; text-align: center;">9</td><td style="width: 20px; text-align: center;">4</td><td style="width: 20px; text-align: center;">3</td><td style="width: 20px; text-align: center;">1</td><td style="width: 20px; text-align: center;">2</td><td style="width: 20px;"></td><td style="width: 20px;"></td><td style="width: 20px;"></td><td style="width: 20px;"></td><td style="width: 20px;"></td><td style="width: 20px;"></td><td style="width: 20px;"></td><td style="width: 20px;"></td><td style="width: 20px;"></td><td style="width: 20px;"></td><td style="width: 20px;"></td><td style="width: 20px;"></td><td style="width: 20px;"></td><td style="width: 20px;"></td><td style="width: 20px;"></td></tr></table>	9	4	3	1	2															
9	4	3	1	2																	

Все бланки ЕГЭ заполняются яркими чёрными чернилами. Допускается использование гелевой, капиллярной или перьевой ручек.

При выполнении заданий можно пользоваться черновиком. Записи в черновике не учитываются при оценивании работы.

Баллы, полученные Вами за выполненные задания, суммируются. Постарайтесь выполнить как можно больше заданий и набрать наибольшее количество баллов.

Обязательно проверьте в конце работы, что все ответы к заданиям части 1 перенесены в бланк ответов!

Желаем успеха!

Ответом к каждому заданию является конечная десятичная дробь, целое число или последовательность цифр. Запишите ответы к заданиям в поле ответа в тексте работы, а затем перенесите в бланк ответов № 1 справа от номера соответствующего задания. Если ответом является последовательность цифр, то запишите эту последовательность в бланк ответов № 1 без пробелов, запятых и других дополнительных символов. Каждую цифру, знак «минус» и запятую пишите в отдельной клеточке в соответствии с приведёнными в бланке образцами. Единицы измерений писать не нужно.

1 Найдите значение выражения $\left(\frac{11}{10} - \frac{4}{11}\right) : \frac{15}{44}$.

Ответ: _____.

2 Найдите частное от деления $1,6 \cdot 10^2$ на $4 \cdot 10^{-2}$.

Ответ: _____.

3 Налог на доходы составляет 13% от заработной платы. После удержания налога на доходы Мария Константиновна получила 6960 рублей. Сколько рублей составляет заработная плата Марии Константиновны?

Ответ: _____.

4 Среднее геометрическое трёх чисел a , b и c вычисляется по формуле $g = \sqrt[3]{abc}$. Вычислите среднее геометрическое чисел 12, 18, 27.

Ответ: _____.

5 Найдите значение выражения $6^{5\log_6 3}$.

Ответ: _____.

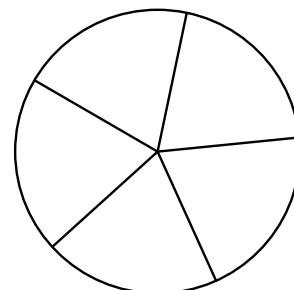
- 6 На день рождения полагается дарить букет из нечётного числа цветов. Хризантемы стоят 50 рублей за штуку. У Вани есть 500 рублей. Из какого наибольшего числа хризантем он может купить букет Маше на день рождения?

Ответ: _____.

- 7 Найдите корень уравнения $\sqrt{16-4x} = 2$.

Ответ: _____.

- 8 Колесо имеет 5 спиц. Найдите величину угла (в градусах), который образуют две соседние спицы



Ответ: _____.

- 9 Установите соответствие между величинами и их возможными значениями: к каждому элементу первого столбца подберите соответствующий элемент из второго столбца.

ВЕЛИЧИНЫ

- А) масса кухонного холодильника
 Б) масса трамвая
 В) масса новорожденного ребёнка
 Г) масса карандаша

ВОЗМОЖНЫЕ ЗНАЧЕНИЯ

- 1) 3500 г
 2) 15 г
 3) 12 т
 4) 38 кг

В таблице под каждой буквой, соответствующей величине, укажите номер её возможного значения.

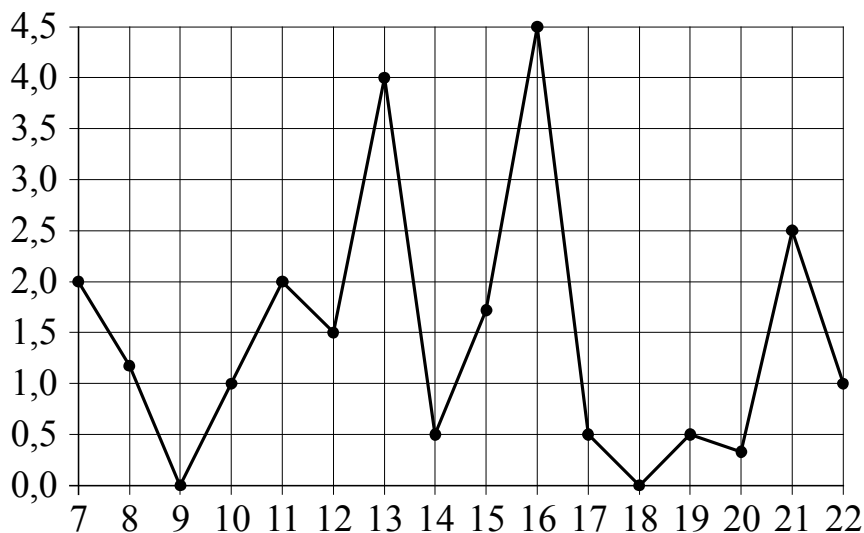
Ответ:

А	Б	В	Г

- 10** По отзывам покупателей Василий Васильевич оценил надёжность двух интернет-магазинов. Вероятность того, что нужный товар доставят из магазина А, равна 0,82. Вероятность того, что этот товар доставят из магазина Б, равна 0,8. Василий Васильевич заказал товар сразу в обоих магазинах. Считая, что интернет-магазины работают независимо друг от друга, найдите вероятность того, что ни один магазин не доставит товар.

Ответ: _____.

- 11** На рисунке жирными точками показано суточное количество осадков, выпадавших в Мурманске с 7 по 22 ноября 1995 года. По горизонтали указываются числа месяца, по вертикали — количество осадков, выпавших в соответствующий день, в миллиметрах. Для наглядности жирные точки на рисунке соединены линиями. Определите по рисунку, какое наибольшее количество осадков в сутки выпадало в указанный период. Ответ дайте в миллиметрах.



Ответ: _____.

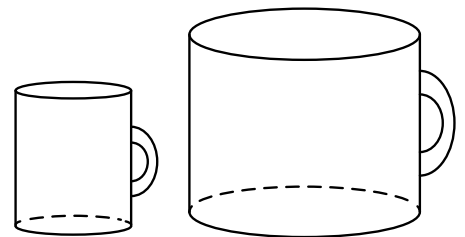
- 12 Для обслуживания международного семинара необходимо собрать группу переводчиков. Сведения о кандидатах представлены в таблице.

Номер переводчика	Языки	Стоимость услуг (руб. в день)
1	немецкий	4000
2	испанский	2050
3	французский	3000
4	французский, английский	5900
5	английский, немецкий	6900
6	французский, испанский	5900

Пользуясь таблицей, соберите хотя бы одну группу, в которой переводчики вместе владеют всеми четырьмя языками: английским, немецким, испанским и французским, а суммарная стоимость их услуг не превышает 12 000 рублей в день. В ответе укажите ровно один набор номеров переводчиков без пробелов, запятых и других дополнительных символов.

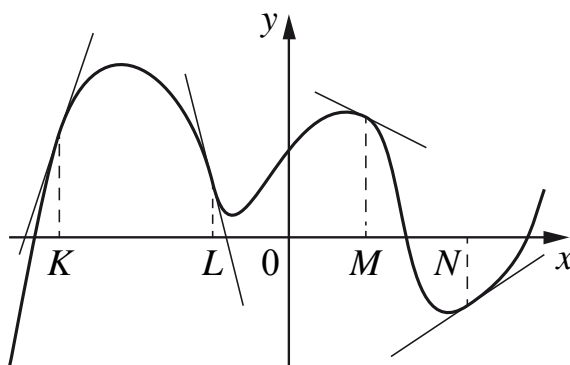
Ответ: _____.

- 13 Даны две кружки цилиндрической формы. Первая кружка в полтора раза ниже второй, а вторая вдвое шире первой. Во сколько раз объём второй кружки больше объёма первой?



Ответ: _____.

- 14 На рисунке изображён график функции, к которому проведены касательные в четырёх точках.



Ниже указаны значения производной в данных точках. Пользуясь графиком, поставьте в соответствие каждой точке значение производной в ней.

	ТОЧКИ	ЗНАЧЕНИЯ ПРОИЗВОДНОЙ
А)	K	1) -4
Б)	L	2) 3
В)	M	3) $\frac{2}{3}$
Г)	N	4) $-0,5$

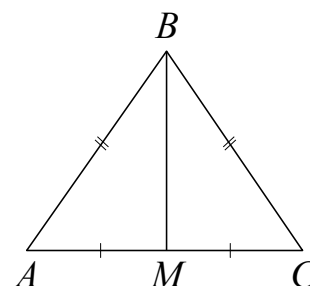
В таблице под каждой буквой укажите соответствующий номер.

Ответ:

А	Б	В	Г

- 15 В треугольнике ABC $AB = BC$, медиана BM равна 6. Площадь треугольника ABC равна $12\sqrt{7}$. Найдите AB .

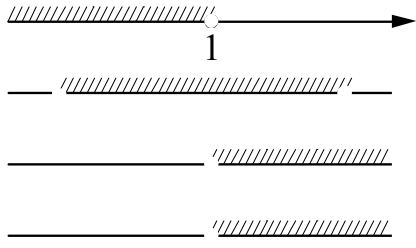
Ответ: _____.



- 16 Даны два шара с радиусами 5 и 1. Во сколько раз площадь поверхности первого шара больше площади поверхности второго?

Ответ: _____.

- 17** Каждому из четырёх неравенств в левом столбце соответствует одно из решений из правого столбца. Установите соответствие между неравенствами и множествами их решениями.

НЕРАВЕНСТВА	РЕШЕНИЯ
<p>А) $\frac{(x-2)^2}{x-1} < 0$</p> <p>Б) $2^{-x} < 0,5$</p> <p>В) $\log_2 x > 1$</p> <p>Г) $(x-1)(x-2) < 0$</p>	<p>1) </p>

- 18** Согласно градостроительным нормам, в домах выше 5 этажей должен быть установлен лифт. Считая, что эти нормы неукоснительно исполняются, выберите утверждения, которые непосредственно из этого следуют.

- 1) Если в доме нет лифта, то он не выше 5 этажей.
- 2) Если в доме 3 этажа, то в нём лифта нет.
- 3) Если в доме больше 5 этажей, то в нём есть лифт.
- 4) Если в доме есть лифт, то он выше 5 этажей.

В ответе укажите номера выбранных утверждений без пробелов, запятых и других дополнительных символов.

Ответ: _____.

- 19** Приведите пример четырёхзначного числа A , обладающего следующими свойствами:

- 1) сумма цифр числа A делится на 8;
- 2) сумма цифр числа $A+2$ также делится на 8;
- 3) число A меньше 3000.

В ответе укажите ровно одно такое число.

Ответ: _____.

20

Хозяин договорился с рабочими, что они выкопают ему колодец на следующих условиях: за первый метр он заплатит им 4200 рублей, а за каждый следующий метр — на 1300 рублей больше, чем за предыдущий. Сколько денег хозяин должен будет заплатить рабочим, если они выкопают колодец глубиной 11 метров?

Ответ: _____.

Не забудьте перенести ответы к заданиям в бланк ответов №1.

Анкета участника апробации

Здравствуй!

Благодарим Вас за участие в апробации новой формы экзамена – ЕГЭ по математике базового уровня. Просим ответить на вопросы анкеты. Ваши ответы очень важны для нас!

Чтобы ответить на вопрос, обведите в кружок букву выбранного варианта ответа.

Например, (б)

Во всех вопросах (кроме вопросов № 7 и № 9) нужно выбрать *только один* вариант ответа.

1. Какая у Вас отметка по алгебре, геометрии или математике за прошлый год? (Если отметки разные, укажите ту, которая выше).

- а) «5»
- б) «4»
- в) «3»
- г) Другое

2. Что Вы собираетесь делать после окончания школы?

- а) Продолжить обучение в вузе, при поступлении в который учитывается результат ЕГЭ по математике
- б) Продолжить обучение в вузе, при поступлении в который не учитывается результат ЕГЭ по математике
- в) Продолжить обучение в техникуме или колледже
- г) Устроиться на работу
- д) Другое

3. Сколько времени в среднем в неделю Вы тратите на домашние задания по математике (алгебре и геометрии вместе)?

- а) Меньше 1 часа
- б) От 1 до 3 часов
- в) Больше 3 часов

4. Сколько у Вас уроков математики (алгебры и геометрии вместе) в неделю в школе?

- а) Менее 4
- б) 4
- в) 5
- г) 6
- д) Более 6

5. Посещаете ли Вы дополнительные занятия по математике помимо уроков в школе?

- а) Посещаю
- б) Не посещаю
- в) Не посещаю, но собираюсь

6. Нравится ли Вам заниматься математикой?

- а) Да
- б) Да, время от времени
- в) Не очень
- г) Нет
- д) Не знаю

7. Выполненная работа показалась Вам (можно выбрать несколько ответов)

- а) легкой
- б) сложной
- в) интересной
- г) скучной
- д) необычной
- е) привычной

8. Разбираетесь ли Вы в компьютерах?

- а) Да, хорошо
- б) Да, средне
- в) Нет, не разбираюсь

9. Пользуетесь ли Вы компьютером? (можно выбрать несколько ответов)

- а) Да, для игр и развлечений
- б) Да, для общения с друзьями
- в) Да, для поиска информации
- г) Да, для работы с фото, видео и т.п.
- д) Да, занимаюсь программированием
- е) Нет, почти не пользуюсь

**Апробация контрольных измерительных материалов
для проведения в 2015 году единого государственного экзамена
по МАТЕМАТИКЕ**

Базовый уровень

Вариант №120912

Инструкция по выполнению работы

Работа включает в себя 20 заданий.

На выполнение работы отводится 3 часа (180 минут).

Ответы к заданиям записываются в виде числа или последовательности цифр. Запишите ответы к заданиям в поле ответа в тексте работы, а затем перенесите в бланк ответов № 1 справа от номера соответствующего задания. Если ответом является последовательность цифр, то запишите эту последовательность в бланк ответов № 1 без пробелов, запятых и других дополнительных символов.

Пример записи ответов.

В работе

На бланке

Ответ: -0,6.

5	-	0	,	6															
---	---	---	---	---	--	--	--	--	--	--	--	--	--	--	--	--	--	--	--

Ответ:

А	Б	В	Г
4	3	1	2

9	4	3	1	2															
---	---	---	---	---	--	--	--	--	--	--	--	--	--	--	--	--	--	--	--

Все бланки ЕГЭ заполняются яркими чёрными чернилами. Допускается использование гелевой, капиллярной или перьевой ручек.

При выполнении заданий можно пользоваться черновиком. Записи в черновике не учитываются при оценивании работы.

Баллы, полученные Вами за выполненные задания, суммируются. Постарайтесь выполнить как можно больше заданий и набрать наибольшее количество баллов.

Обязательно проверьте в конце работы, что все ответы к заданиям части 1 перенесены в бланк ответов!

Желаем успеха!

Ответом к каждому заданию является конечная десятичная дробь, целое число или последовательность цифр. Запишите ответы к заданиям в поле ответа в тексте работы, а затем перенесите в бланк ответов № 1 справа от номера соответствующего задания. Если ответом является последовательность цифр, то запишите эту последовательность в бланк ответов № 1 без пробелов, запятых и других дополнительных символов. Каждую цифру, знак «минус» и запятую пишите в отдельной клеточке в соответствии с приведёнными в бланке образцами. Единицы измерений писать не нужно.

1 Найдите значение выражения $4,6 \cdot 3,9 + 1,74$.

Ответ: _____.

2 Найдите значение выражения $\frac{36^5}{6^7}$.

Ответ: _____.

3 В начале года число абонентов телефонной компании «Восток» составляло 400 тыс. человек, а в конце года их стало 480 тыс. человек. На сколько процентов увеличилось за год число абонентов этой компании?

Ответ: _____.

4 Мощность постоянного тока (в ваттах) вычисляется по формуле $P = I^2 R$, где I — сила тока (в амперах), R — сопротивление (в омах). Пользуясь этой формулой, найдите сопротивление R (в омах), если мощность составляет 224 Вт, а сила тока равна 4 А.

Ответ: _____.

5 Найдите значение выражения $\frac{4\sqrt{48}}{\sqrt{3}}$.

Ответ: _____.

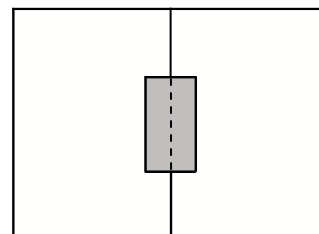
- 6 В среднем за день во время конференции расходуется 90 пакетиков чая. Конференция длится 7 дней. В пачке чая 100 пакетиков. Какого наименьшего количества пачек чая хватит на все дни конференции?

Ответ: _____.

- 7 Найдите корень уравнения $-7 + 2(3 - 2x) = -3x + 8$.

Ответ: _____.

- 8 Два садовода, имеющие прямоугольные участки размерами 35 м на 40 м с общей границей, договорились и сделали общий прямоугольный пруд размером 20 м на 14 м (см. чертёж), причём граница участков проходит точно через центр. Какова площадь (в квадратных метрах) оставшейся части участка каждого садовода?



Ответ: _____.

- 9 Установите соответствие между величинами и их возможными значениями: к каждому элементу первого столбца подберите соответствующий элемент из второго столбца.

ВЕЛИЧИНЫ

- А) площадь города Санкт-Петербург
 Б) площадь ладони взрослого человека
 В) площадь поверхности тумбочки
 Г) площадь баскетбольной площадки

ВОЗМОЖНЫЕ ЗНАЧЕНИЯ

- 1) 364 кв. м
 2) 100 кв. см
 3) 1399 кв. км
 4) 0,2 кв. м

В таблице под каждой буквой, соответствующей величине, укажите номер её возможного значения.

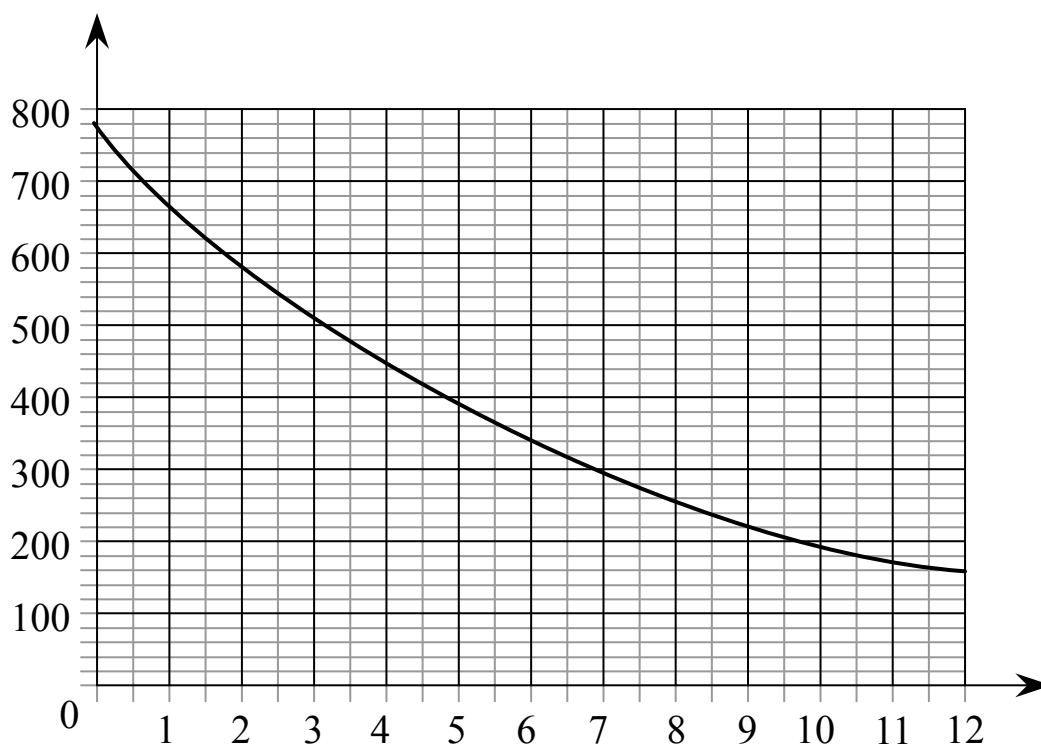
Ответ:

А	Б	В	Г

- 10** В сборнике билетов по биологии всего 25 билетов, в 9 из них встречается вопрос по теме «Круглые черви». Найдите вероятность того, что в случайно выбранном на экзамене билете школьнику достанется вопрос по теме «Круглые черви».

Ответ: _____.

- 11** На графике изображена зависимость атмосферного давления (в миллиметрах ртутного столба) от высоты над уровнем моря (в километрах). На какой высоте (в км) летит воздушный шар, если барометр, находящийся в корзине шара, показывает давление 580 миллиметров ртутного столба?



Ответ: _____.

- 12** Михаил решил посетить Парк аттракционов. Сведения о билетах на аттракционы представлены в таблице. Некоторые билеты позволяют посетить сразу два аттракциона.

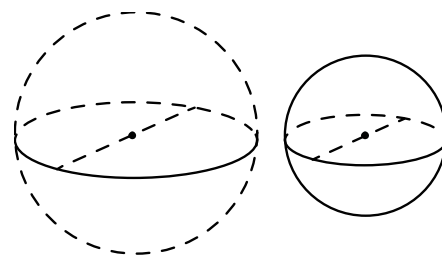
Номер билета	Посещаемые аттракционы	Стоимость (руб.)
1	американские горки	300
2	комната страха, американские горки	400
3	автодром, американские горки	350
4	колесо обозрения	250
5	колесо обозрения, автодром	300
6	автодром	100

Пользуясь таблицей, выберите набор билетов так, чтобы Михаил посетил все четыре аттракциона: колесо обозрения, комнату страха, американские горки, автодром, а суммарная стоимость билетов не превышала 800 рублей.

В ответе укажите ровно один набор номеров билетов без пробелов, запятых и других дополнительных символов.

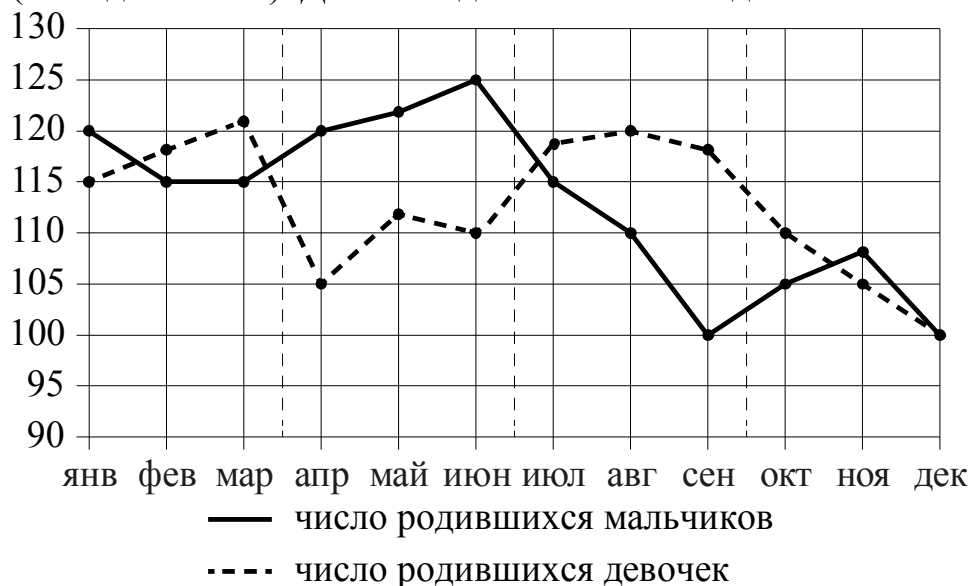
Ответ: _____.

- 13** Однородный шар диаметром 3 см имеет массу 162 грамма. Чему равна масса шара, изготовленного из того же материала, с диаметром 2 см? Ответ дайте в граммах.



Ответ: _____.

14 На рисунке точками изображено число родившихся мальчиков и девочек за каждый календарный месяц 2013 года в городском роддоме. По горизонтали указываются месяцы, по вертикали — количество родившихся мальчиков и девочек (по отдельности). Для наглядности точки соединены линиями.



Пользуясь рисунком, поставьте в соответствие каждому из указанных периодов времени характеристику рождаемости в этот период.

ПЕРИОДЫ ВРЕМЕНИ	ХАРАКТЕРИСТИКИ РОЖДАЕМОСТИ
А) 1-й квартал года	1) рождаемость мальчиков превышала рождаемость девочек
Б) 2-й квартал года	2) рождаемость девочек росла
В) 3-й квартал года	3) рождаемость девочек снижалась
Г) 4-й квартал года	4) разность между числом родившихся мальчиков и числом родившихся девочек в один из месяцев этого периода достигает наибольшего значения за год

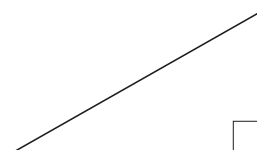
В таблице под каждой буквой укажите соответствующий номер.

Ответ:

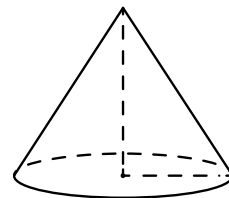
А	Б	В	Г

15 Катеты прямоугольного треугольника равны 6 и 8. Найдите наибольшую среднюю линию треугольника.

Ответ: _____.

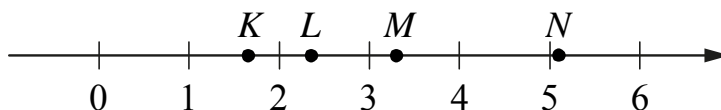


- 16 Объём конуса равен 50π , а его высота равна 6. Найдите радиус основания конуса.



Ответ: _____.

- 17 На прямой отмечены точки K , L , M и N .



Установите соответствие между указанными точками и числами из правого столбца, которые им соответствуют.

	ТОЧКИ		ЧИСЛА
А) K		1)	$\log_2 10$
Б) L		2)	$\frac{7}{3}$
В) M		3)	$\sqrt{26}$
Г) N		4)	$0,6^{-1}$

Впишите в приведённую в ответе таблицу под каждой буквой соответствующую цифру.

Ответ:

А	Б	В	Г

18

Среди сотрудников фирмы А некоторые летом 2013 года отдыхали в Греции, а некоторые — в Испании. Все те сотрудники, которые отдыхали в Испании, не отдыхали в Греции. Выберите утверждения, которые следуют из приведённых данных.

- 1) Сотрудник фирмы А, который летом 2013 года не отдыхал в Греции, обязательно отдыхал в Испании.
- 2) Каждый сотрудник фирмы А отдыхал за лето 2013 года хоть где-то.
- 3) Среди тех сотрудников, которые не отдыхали в Испании летом 2013 года, есть хотя бы один сотрудник, который отдыхал в Греции.
- 4) Нет ни одного сотрудника фирмы А, который за лето 2013 года отдыхал и в Греции, и в Испании.

В ответе запишите номера выбранных утверждений без пробелов, запятых и других дополнительных символов.

Ответ: _____.

19

Приведите пример шестизначного натурального числа, которое записывается только цифрами 1 и 2 и делится на 24. В ответе укажите ровно одно такое число.

Ответ: _____.

20

В магазине бытовой техники объём продаж холодильников носит сезонный характер. В январе было продано 10 холодильников, и в три последующих месяца продавали по 10 холодильников. С мая продажи увеличивались на 15 единиц по сравнению с предыдущим месяцем. С сентября объём продаж начал уменьшаться на 15 холодильников каждый месяц относительно предыдущего месяца. Сколько холодильников продал магазин за год?

Ответ: _____.

Не забудьте перенести ответы к заданиям в бланк ответов №1.

Анкета участника апробации

Здравствуйте!

Благодарим Вас за участие в апробации новой формы экзамена – ЕГЭ по математике базового уровня. Просим ответить на вопросы анкеты. Ваши ответы очень важны для нас!

Чтобы ответить на вопрос, обведите в кружок букву выбранного варианта ответа.

Например, **б)**

Во всех вопросах (кроме вопросов № 7 и № 9) нужно выбрать *только один* вариант ответа.

1. Какая у Вас отметка по алгебре, геометрии или математике за прошлый год? (Если отметки разные, укажите ту, которая выше).

- а) «5»
- б) «4»
- в) «3»
- г) Другое

2. Что Вы собираетесь делать после окончания школы?

- а) Продолжить обучение в вузе, при поступлении в который учитывается результат ЕГЭ по математике
- б) Продолжить обучение в вузе, при поступлении в который не учитывается результат ЕГЭ по математике
- в) Продолжить обучение в техникуме или колледже
- г) Устроиться на работу
- д) Другое

3. Сколько времени в среднем в неделю Вы тратите на домашние задания по математике (алгебре и геометрии вместе)?

- а) Меньше 1 часа
- б) От 1 до 3 часов
- в) Больше 3 часов

4. Сколько у Вас уроков математики (алгебры и геометрии вместе) в неделю в школе?

- а) Менее 4
- б) 4
- в) 5
- г) 6
- д) Более 6

5. Посещаете ли Вы дополнительные занятия по математике помимо уроков в школе?

- а) Посещаю
- б) Не посещаю
- в) Не посещаю, но собираюсь

6. Нравится ли Вам заниматься математикой?

- а) Да
- б) Да, время от времени
- в) Не очень
- г) Нет
- д) Не знаю

7. Выполненная работа показалась Вам (можно выбрать несколько ответов)

- а) легкой
- б) сложной
- в) интересной
- г) скучной
- д) необычной
- е) привычной

8. Разбираетесь ли Вы в компьютерах?

- а) Да, хорошо
- б) Да, средне
- в) Нет, не разбираюсь

9. Пользуетесь ли Вы компьютером? (можно выбрать несколько ответов)

- а) Да, для игр и развлечений
- б) Да, для общения с друзьями
- в) Да, для поиска информации
- г) Да, для работы с фото, видео и т.п.
- д) Да, занимаюсь программированием
- е) Нет, почти не пользуюсь

**Апробация контрольных измерительных материалов
для проведения в 2015 году единого государственного экзамена
по МАТЕМАТИКЕ**

Базовый уровень

Вариант №120913

Инструкция по выполнению работы

Работа включает в себя 20 заданий.

На выполнение работы отводится 3 часа (180 минут).

Ответы к заданиям записываются в виде числа или последовательности цифр. Запишите ответы к заданиям в поле ответа в тексте работы, а затем перенесите в бланк ответов № 1 справа от номера соответствующего задания. Если ответом является последовательность цифр, то запишите эту последовательность в бланк ответов № 1 без пробелов, запятых и других дополнительных символов.

Пример записи ответов.

В работе

На бланке

Ответ: -0,6.

5	-	0	,	6															
---	---	---	---	---	--	--	--	--	--	--	--	--	--	--	--	--	--	--	--

Ответ:

А	Б	В	Г
4	3	1	2

9	4	3	1	2															
---	---	---	---	---	--	--	--	--	--	--	--	--	--	--	--	--	--	--	--

Все бланки ЕГЭ заполняются яркими чёрными чернилами. Допускается использование гелевой, капиллярной или перьевой ручек.

При выполнении заданий можно пользоваться черновиком. Записи в черновике не учитываются при оценивании работы.

Баллы, полученные Вами за выполненные задания, суммируются. Постарайтесь выполнить как можно больше заданий и набрать наибольшее количество баллов.

Обязательно проверьте в конце работы, что все ответы к заданиям части 1 перенесены в бланк ответов!

Желаем успеха!

Ответом к каждому заданию является конечная десятичная дробь, целое число или последовательность цифр. Запишите ответы к заданиям в поле ответа в тексте работы, а затем перенесите в бланк ответов № 1 справа от номера соответствующего задания. Если ответом является последовательность цифр, то запишите эту последовательность в бланк ответов № 1 без пробелов, запятых и других дополнительных символов. Каждую цифру, знак «минус» и запятую пишите в отдельной клеточке в соответствии с приведёнными в бланке образцами. Единицы измерений писать не нужно.

1 Найдите значение выражения $\left(\frac{17}{16} - \frac{1}{32}\right) : \frac{11}{24}$.

Ответ: _____.

2 Найдите частное от деления $0,8 \cdot 10^{-1}$ на $4 \cdot 10^2$.

Ответ: _____.

3 Городской бюджет составляет 27 млн рублей, а расходы на одну из его статей составили 10%. Сколько рублей потрачено на эту статью бюджета?

Ответ: _____.

4 Мощность постоянного тока (в ваттах) вычисляется по формуле $P = I^2 R$, где I — сила тока (в амперах), R — сопротивление (в омах). Пользуясь этой формулой, найдите сопротивление R (в омах), если мощность составляет 423,5 Вт, а сила тока равна 5,5 А.

Ответ: _____.

5 Найдите значение выражения $\frac{\sqrt{252}}{4\sqrt{7}}$.

Ответ: _____.

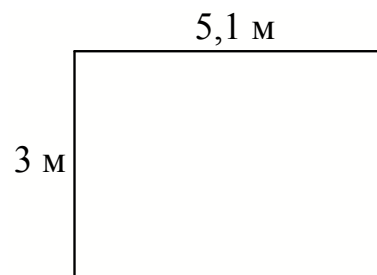
6 В пачке 500 листов бумаги формата А4. За неделю в офисе расходуется 600 листов. Какого наименьшего количества пачек бумаги хватит на 6 недель?

Ответ: _____.

7 Найдите корень уравнения: $\left(\frac{1}{5}\right)^{5-x} = 125$.

Ответ: _____.

8 На плане указано, что прямоугольная комната имеет площадь 15,2 кв.м. Точные измерения показали, что ширина комнаты равна 3 м, а длина 5,1 м. На сколько квадратных метров площадь комнаты отличается от значения, указанного в плане?



Ответ: _____.

9 Установите соответствие между величинами и их возможными значениями: к каждому элементу первого столбца подберите соответствующий элемент из второго столбца.

ВЕЛИЧИНЫ

- А) масса куриного яйца
- Б) масса детской коляски
- В) масса взрослого бегемота
- Г) масса активного вещества в таблетке

ВОЗМОЖНЫЕ ЗНАЧЕНИЯ

- 1) 2,5 мг
- 2) 14 кг
- 3) 50 г
- 4) 3 т

В таблице под каждой буквой, соответствующей величине, укажите номер её возможного значения.

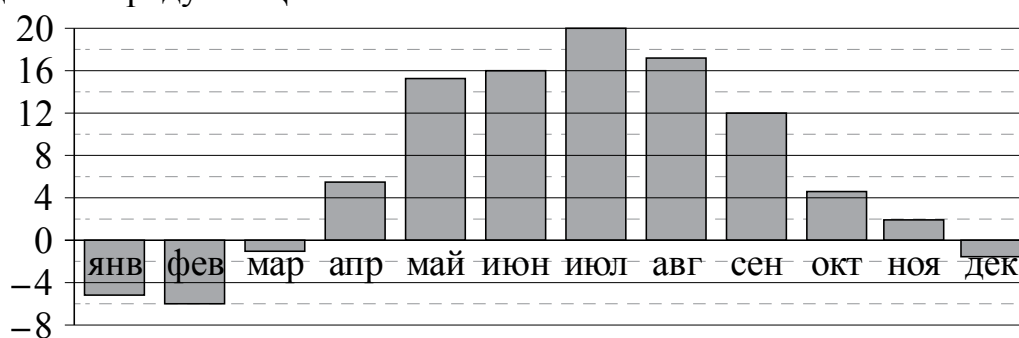
Ответ:

А	Б	В	Г

- 10** В чемпионате по гимнастике участвуют 50 спортсменок: 17 из России, 22 из США, остальные — из Китая. Порядок, в котором выступают гимнастки, определяется жребием. Найдите вероятность того, что спортсменка, выступающая первой, окажется из Китая.

Ответ: _____.

- 11** На диаграмме показана среднемесячная температура воздуха в Минске за каждый месяц 2003 года. По горизонтали указываются месяцы, по вертикали — температура в градусах Цельсия. Определите по диаграмме наибольшую среднемесячную температуру в период с сентября по декабрь 2003 года. Ответ дайте в градусах Цельсия.



Ответ: _____.


- 12** Для обслуживания международного семинара необходимо собрать группу переводчиков. Сведения о кандидатах представлены в таблице.

Номер переводчика	Языки	Стоимость услуг (руб. в день)
1	английский, немецкий	7000
2	немецкий	3900
3	французский	2000
4	испанский	2900
5	испанский, английский	5850
6	испанский, французский	6100

Пользуясь таблицей, соберите хотя бы одну группу, в которой переводчики вместе владеют всеми четырьмя языками: английским, немецким, испанским и французским, а суммарная стоимость их услуг не превышает 12 000 рублей в день. В ответе укажите ровно один набор номеров переводчиков без пробелов, запятых и других дополнительных символов.

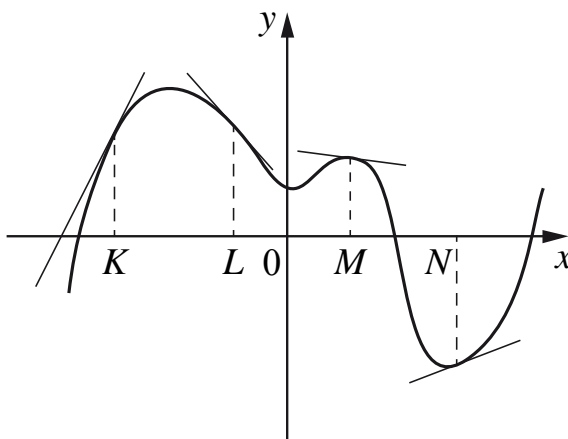
Ответ: _____.

- 13 Даны две кружки цилиндрической формы. Первая кружка вдвое выше второй, а вторая в четыре раза шире первой. Во сколько раз объём второй кружки больше объёма первой?



Ответ: _____.

- 14 На рисунке изображён график функции, к которому проведены касательные в четырёх точках.



Ниже указаны значения производной в данных точках. Пользуясь графиком, поставьте в соответствие каждой точке значение производной в ней.

	ТОЧКИ	ЗНАЧЕНИЯ ПРОИЗВОДНОЙ
А) K		1) $-\frac{2}{15}$
Б) L		2) 2
В) M		3) $\frac{5}{13}$
Г) N		4) $-1\frac{2}{15}$

В таблице под каждой буквой укажите соответствующий номер.

Ответ:

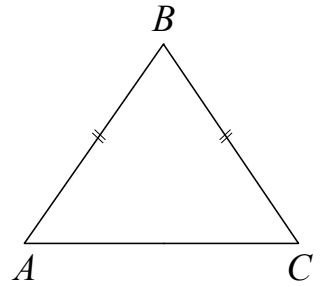
А	Б	В	Г

15

В треугольнике ABC $AB = BC$, $AC = 8$, $\operatorname{tg} \angle BAC = \frac{\sqrt{5}}{2}$.

Найдите AB .

Ответ: _____.



16

Даны два конуса. Радиус основания и образующая первого конуса равны соответственно 3 и 9, а второго — 6 и 9. Во сколько раз площадь боковой поверхности второго конуса больше площади боковой поверхности первого?

Ответ: _____.

17

Каждому из четырёх чисел в левом столбце соответствует отрезок, которому оно принадлежит. Установите соответствие между числами и отрезками из правого столбца.

ЧИСЛА

ОТРЕЗКИ

А) $\log_5 7$

1) $[0; 1]$

Б) $\frac{17}{6}$

2) $[1; 2]$

В) $\sqrt{0,5}$

3) $[2; 3]$

Г) $0,22^{-1}$

4) $[4; 5]$

Впишите в приведённую в ответе таблицу под каждой буквой соответствующую цифру.

Ответ:

А	Б	В	Г

18 Если спортсмен, участвующий в Олимпийских играх, установил мировой рекорд, то его результат является и олимпийским рекордом. Выберите утверждения, которые следуют из этого факта.

- 1) Если результат спортсмена, участвующего в Олимпийских играх, не является олимпийским рекордом, то он не является и мировым рекордом.
- 2) Если результат спортсмена, участвующего в Олимпийских играх, является олимпийским рекордом, то он является и мировым рекордом.
- 3) Если результат спортсмена, участвующего в Олимпийских играх, не является мировым рекордом, то он не является и олимпийским рекордом.
- 4) Если спортсмен, участвующий в Олимпийских играх, установил мировой рекорд в беге на 100 м, то его результат является и олимпийским рекордом.

В ответе укажите номера выбранных утверждений без пробелов, запятых и других дополнительных символов.

Ответ: _____.

19 Приведите пример трёхзначного натурального числа, кратного 4, сумма цифр которого равна их произведению. В ответе укажите ровно одно такое число.

Ответ: _____.

20 В корзине лежат 25 грибов: рыжики и грузди. Известно, что среди любых 11 грибов имеется хотя бы один рыжик, а среди любых 16 грибов хотя бы один груздь. Сколько рыжиков в корзине?

Ответ: _____.

Не забудьте перенести ответы к заданиям в бланк ответов №1.

Анкета участника апробации

Здравствуйте!

Благодарим Вас за участие в апробации новой формы экзамена – ЕГЭ по математике базового уровня. Просим ответить на вопросы анкеты. Ваши ответы очень важны для нас!

Чтобы ответить на вопрос, обведите в кружок букву выбранного варианта ответа.

Например, **б**

Во всех вопросах (кроме вопросов № 7 и № 9) нужно выбрать *только один* вариант ответа.

1. Какая у Вас отметка по алгебре, геометрии или математике за прошлый год? (Если отметки разные, укажите ту, которая выше).

- а) «5»
- б) «4»
- в) «3»
- г) Другое

2. Что Вы собираетесь делать после окончания школы?

- а) Продолжить обучение в вузе, при поступлении в который учитывается результат ЕГЭ по математике
- б) Продолжить обучение в вузе, при поступлении в который не учитывается результат ЕГЭ по математике
- в) Продолжить обучение в техникуме или колледже
- г) Устроиться на работу
- д) Другое

3. Сколько времени в среднем в неделю Вы тратите на домашние задания по математике (алгебре и геометрии вместе)?

- а) Меньше 1 часа
- б) От 1 до 3 часов
- в) Больше 3 часов

4. Сколько у Вас уроков математики (алгебры и геометрии вместе) в неделю в школе?

- а) Менее 4
- б) 4
- в) 5
- г) 6
- д) Более 6

5. Посещаете ли Вы дополнительные занятия по математике помимо уроков в школе?

- а) Посещаю
- б) Не посещаю
- в) Не посещаю, но собираюсь

6. Нравится ли Вам заниматься математикой?

- а) Да
- б) Да, время от времени
- в) Не очень
- г) Нет
- д) Не знаю

7. Выполненная работа показалась Вам
(можно выбрать несколько ответов)

- а) легкой
- б) сложной
- в) интересной
- г) скучной
- д) необычной
- е) привычной

8. Разбираетесь ли Вы в компьютерах?

- а) Да, хорошо
- б) Да, средне
- в) Нет, не разбираюсь

9. Пользуетесь ли Вы компьютером?
(можно выбрать несколько ответов)

- а) Да, для игр и развлечений
- б) Да, для общения с друзьями
- в) Да, для поиска информации
- г) Да, для работы с фото, видео и т.п.
- д) Да, занимаюсь программированием
- е) Нет, почти не пользуюсь

**Апробация контрольных измерительных материалов
для проведения в 2015 году единого государственного экзамена
по МАТЕМАТИКЕ**

Базовый уровень

Вариант №120914

Инструкция по выполнению работы

Работа включает в себя 20 заданий.

На выполнение работы отводится 3 часа (180 минут).

Ответы к заданиям записываются в виде числа или последовательности цифр. Запишите ответы к заданиям в поле ответа в тексте работы, а затем перенесите в бланк ответов № 1 справа от номера соответствующего задания. Если ответом является последовательность цифр, то запишите эту последовательность в бланк ответов № 1 без пробелов, запятых и других дополнительных символов.

Пример записи ответов.

	В работе	На бланке																				
Ответ: <u>-0,6</u> .	5 - 0 , 6	<table border="1" style="display: inline-table; border-collapse: collapse;"><tr><td style="width: 20px; height: 20px;"></td><td style="width: 20px; height: 20px;"></td><td style="width: 20px; height: 20px;"></td><td style="width: 20px; height: 20px;"></td><td style="width: 20px; height: 20px;"></td><td style="width: 20px; height: 20px;"></td><td style="width: 20px; height: 20px;"></td><td style="width: 20px; height: 20px;"></td><td style="width: 20px; height: 20px;"></td><td style="width: 20px; height: 20px;"></td><td style="width: 20px; height: 20px;"></td><td style="width: 20px; height: 20px;"></td><td style="width: 20px; height: 20px;"></td><td style="width: 20px; height: 20px;"></td><td style="width: 20px; height: 20px;"></td><td style="width: 20px; height: 20px;"></td><td style="width: 20px; height: 20px;"></td><td style="width: 20px; height: 20px;"></td><td style="width: 20px; height: 20px;"></td><td style="width: 20px; height: 20px;"></td></tr></table>																				
Ответ:	<table border="1" style="display: inline-table; border-collapse: collapse;"><tr><td style="width: 20px; height: 20px; text-align: center;">А</td><td style="width: 20px; height: 20px; text-align: center;">Б</td><td style="width: 20px; height: 20px; text-align: center;">В</td><td style="width: 20px; height: 20px; text-align: center;">Г</td></tr><tr><td style="width: 20px; height: 20px; text-align: center;">4</td><td style="width: 20px; height: 20px; text-align: center;">3</td><td style="width: 20px; height: 20px; text-align: center;">1</td><td style="width: 20px; height: 20px; text-align: center;">2</td></tr></table>	А	Б	В	Г	4	3	1	2	9 4 3 1 2												
А	Б	В	Г																			
4	3	1	2																			

Все бланки ЕГЭ заполняются яркими чёрными чернилами. Допускается использование гелевой, капиллярной или перьевой ручек.

При выполнении заданий можно пользоваться черновиком. Записи в черновике не учитываются при оценивании работы.

Баллы, полученные Вами за выполненные задания, суммируются. Постарайтесь выполнить как можно больше заданий и набрать наибольшее количество баллов.

Обязательно проверьте в конце работы, что все ответы к заданиям части 1 перенесены в бланк ответов!

Желаем успеха!

Ответом к каждому заданию является конечная десятичная дробь, целое число или последовательность цифр. Запишите ответы к заданиям в поле ответа в тексте работы, а затем перенесите в бланк ответов № 1 справа от номера соответствующего задания. Если ответом является последовательность цифр, то запишите эту последовательность в бланк ответов № 1 без пробелов, запятых и других дополнительных символов. Каждую цифру, знак «минус» и запятую пишите в отдельной клеточке в соответствии с приведёнными в бланке образцами. Единицы измерений писать не нужно.

1

Найдите значение выражения $12 \cdot \left(\frac{13}{24} - \frac{7}{12} - \frac{1}{6} \right)$.

Ответ: _____.

2

Найдите значение выражения $\frac{(9^{-4})^2}{9^{-10}}$.

Ответ: _____.

3

Футболка стоила 500 рублей. После снижения цены она стала стоить 390 рублей. На сколько процентов была снижена цена на футболку?

Ответ: _____.

4

Среднее геометрическое трёх чисел a , b и c вычисляется по формуле $g = \sqrt[3]{abc}$. Вычислите среднее геометрическое чисел 5, 25, 27.

Ответ: _____.

5

Найдите значение выражения $-22 \sin 390^\circ$.

Ответ: _____.

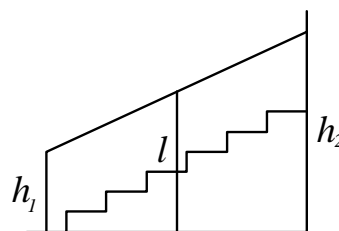
- 6 В университетскую библиотеку привезли новые учебники по русскому языку для трёх курсов, по 60 штук для каждого курса. Все книги одинаковы по размеру. В книжном шкафу 5 полок, на каждой полке помещается 25 учебников. Сколько шкафов можно полностью заполнить новыми учебниками?

Ответ: _____.

- 7 Найдите корень уравнения $\left(\frac{1}{3}\right)^{x-8} = \frac{1}{9}$.

Ответ: _____.

- 8 Перила лестницы дачного дома для надёжности укреплены посередине вертикальным столбом. Найдите высоту l этого столба, если наименьшая высота h_1 перил относительно земли равна 1,5 м, а наибольшая h_2 равна 2,5 м. Ответ дайте в метрах.



Ответ: _____.

- 9 Установите соответствие между величинами и их возможными значениями: к каждому элементу первого столбца подберите соответствующий элемент из второго столбца.

ВЕЛИЧИНЫ

- А) площадь одной страницы учебника
 Б) площадь территории республики Карелия
 В) площадь одной стороны монеты
 Г) площадь бадминтонной площадки

ВОЗМОЖНЫЕ ЗНАЧЕНИЯ

- 1) 81,7 кв. м
 2) 330 кв. см
 3) 180,5 тыс. кв. км
 4) 300 кв. мм

В таблице под каждой буквой, соответствующей величине, укажите номер её возможного значения.

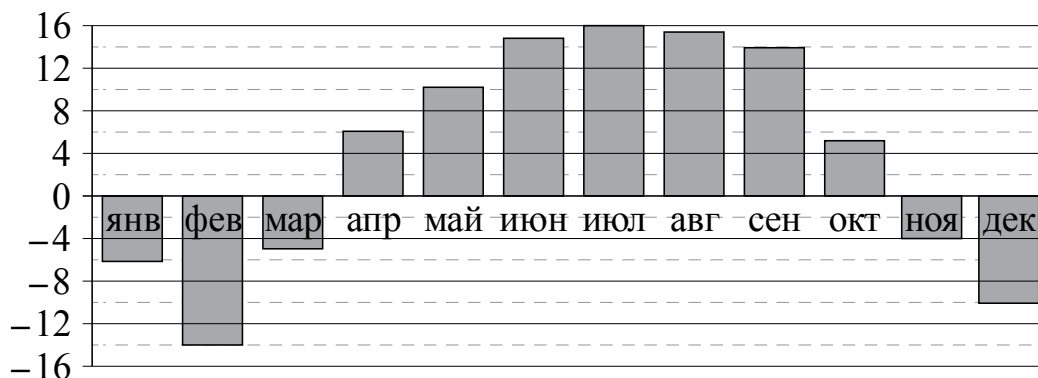
Ответ:

А	Б	В	Г

- 10** В среднем из 2000 садовых насосов, поступивших в продажу, 14 подтекают. Найдите вероятность того, что один случайно выбранный для контроля насос не подтекает.

Ответ: _____.

- 11** На диаграмме показана среднемесячная температура воздуха в Нижнем Новгороде за каждый месяц 1994 года. По горизонтали указываются месяцы, по вертикали — температура в градусах Цельсия. Определите по диаграмме наибольшую среднемесячную температуру в 1994 году. Ответ дайте в градусах Цельсия.



Ответ: _____.

- 12** Путешественник из Москвы хочет посетить четыре города Золотого кольца России: Владимир, Ярославль, Суздаль и Ростов. Турагентство предлагает маршруты с посещением некоторых городов Золотого кольца. Сведения о стоимости билетов и составе маршрутов представлены в таблице.

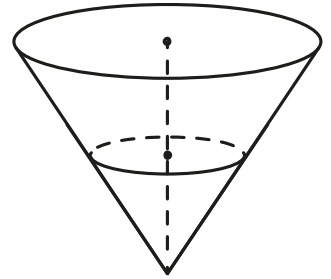
Номер маршрута	Посещаемые города	Стоимость (руб.)
1	Суздаль, Ярославль, Владимир	3900
2	Ростов, Владимир	2400
3	Ярославль, Владимир	2100
4	Суздаль	1650
5	Ростов, Суздаль	2700
6	Ярославль, Ростов	2350

Какие маршруты должен выбрать путешественник, чтобы побывать во всех четырёх городах и затратить на все поездки менее 5000 рублей?

В ответе укажите ровно один набор маршрутов без пробелов, запятых и других дополнительных символов.

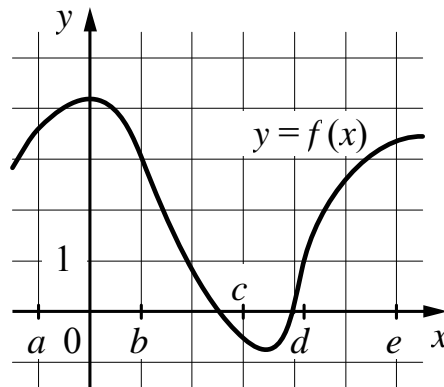
Ответ: _____.

- 13** В сосуде, имеющем форму конуса, уровень жидкости достигает $\frac{1}{2}$ высоты. Объём жидкости равен 90 мл. Сколько миллилитров жидкости нужно долить, чтобы наполнить сосуд доверху?



Ответ: _____.

- 14** На рисунке изображён график функции $y = f(x)$. Числа a, b, c, d и e задают на оси x четыре интервала. Пользуясь графиком, поставьте в соответствие каждому интервалу характеристику функции или её производной.



ИНТЕРВАЛЫ

- А) $(a; b)$
 Б) $(b; c)$
 В) $(c; d)$
 Г) $(d; e)$

ХАРАКТЕРИСТИКИ ФУНКЦИИ ИЛИ ПРОИЗВОДНОЙ

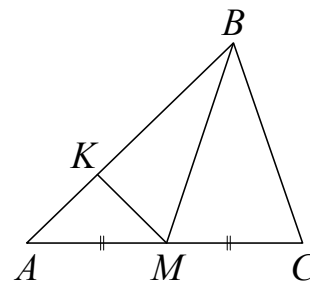
- 1) производная отрицательна на всём интервале
- 2) производная отрицательна в начале интервала и положительна в конце интервала
- 3) функция отрицательна в начале интервала и положительна в конце интервала
- 4) производная положительна на всём интервале

В таблице под каждой буквой укажите соответствующий номер.

Ответ:

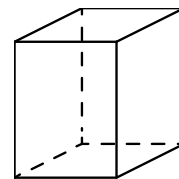
А	Б	В	Г

- 15 В треугольнике ABC проведена медиана BM , на стороне AB взята точка K так, что $AK = \frac{1}{3}AB$. Площадь треугольника AMK равна 5. Найдите площадь треугольника ABC .



Ответ: _____.

- 16 Два ребра прямоугольного параллелепипеда равны 7 и 4, а объём параллелепипеда равен 140. Найдите площадь поверхности этого параллелепипеда.



Ответ: _____.

- 17 Каждому из четырёх неравенств в левом столбце соответствует одно из решений из правого столбца. Установите соответствие между неравенствами и их решениями.

НЕРАВЕНСТВА

А) $\frac{1}{(x-2)(x-3)} > 0$

Б) $3^{-x+3} > 3$

В) $\log_3 x > 1$

Г) $\frac{x-3}{x-2} < 0$

РЕШЕНИЯ

1) $x < 2$ или $x > 3$

2) $2 < x < 3$

3) $x < 2$

4) $x > 3$

Впишите в приведённую в ответе таблицу под каждой буквой соответствующую цифру.

Ответ:

А	Б	В	Г

18 В доме Кости больше этажей, чем в доме Олега, в доме Тани меньше этажей, чем в доме Олега, а в доме Феди больше этажей, чем в Танином доме. Выберите утверждения, которые следуют из приведённых данных.

- 1) Дом Тани самый малоэтажный среди перечисленных четырёх.
- 2) В доме Олега меньше этажей, чем в доме Феди.
- 3) В Костином доме больше этажей, чем в Танином.
- 4) Среди этих четырёх домов точно нет двух с одинаковым количеством этажей.

В ответе запишите номера выбранных утверждений без пробелов, запятых и других дополнительных символов.

Ответ: _____.

19 Цифры четырёхзначного числа, кратного 5, записали в обратном порядке и получили второе четырёхзначное число. Затем из первого числа вычли второе и получили 3627. Приведите ровно один пример такого числа.

Ответ: _____.

20 На кольцевой дороге расположены четыре бензоколонки: А, В, С и D. Расстояние между А и В — 50 км, между А и С — 40 км, между С и D — 25 км, между D и А — 35 км (все расстояния измеряются вдоль кольцевой дороги в кратчайшую сторону).

Найдите расстояние между В и С.

Ответ: _____.

Не забудьте перенести ответы к заданиям в бланк ответов №1.

Анкета участника апробации

Здравствуйте!

Благодарим Вас за участие в апробации новой формы экзамена – ЕГЭ по математике базового уровня. Просим ответить на вопросы анкеты. Ваши ответы очень важны для нас!

Чтобы ответить на вопрос, обведите в кружок букву выбранного варианта ответа.

Например, **б)**

Во всех вопросах (кроме вопросов № 7 и № 9) нужно выбрать *только один* вариант ответа.

1. Какая у Вас отметка по алгебре, геометрии или математике за прошлый год? (Если отметки разные, укажите ту, которая выше).

- а) «5»
- б) «4»
- в) «3»
- г) Другое

2. Что Вы собираетесь делать после окончания школы?

- а) Продолжить обучение в вузе, при поступлении в который учитывается результат ЕГЭ по математике
- б) Продолжить обучение в вузе, при поступлении в который не учитывается результат ЕГЭ по математике
- в) Продолжить обучение в техникуме или колледже
- г) Устроиться на работу
- д) Другое

3. Сколько времени в среднем в неделю Вы тратите на домашние задания по математике (алгебре и геометрии вместе)?

- а) Меньше 1 часа
- б) От 1 до 3 часов
- в) Больше 3 часов

4. Сколько у Вас уроков математики (алгебры и геометрии вместе) в неделю в школе?

- а) Менее 4
- б) 4
- в) 5
- г) 6
- д) Более 6

5. Посещаете ли Вы дополнительные занятия по математике помимо уроков в школе?

- а) Посещаю
- б) Не посещаю
- в) Не посещаю, но собираюсь

6. Нравится ли Вам заниматься математикой?

- а) Да
- б) Да, время от времени
- в) Не очень
- г) Нет
- д) Не знаю

7. Выполненная работа показалась Вам (можно выбрать несколько ответов)

- а) легкой
- б) сложной
- в) интересной
- г) скучной
- д) необычной
- е) привычной

8. Разбираетесь ли Вы в компьютерах?

- а) Да, хорошо
- б) Да, средне
- в) Нет, не разбираюсь

9. Пользуетесь ли Вы компьютером? (можно выбрать несколько ответов)

- а) Да, для игр и развлечений
- б) Да, для общения с друзьями
- в) Да, для поиска информации
- г) Да, для работы с фото, видео и т.п.
- д) Да, занимаюсь программированием
- е) Нет, почти не пользуюсь